

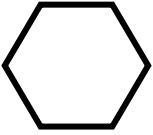
Фамилия _____

КАРТОЧКА
для самостоятельной работы

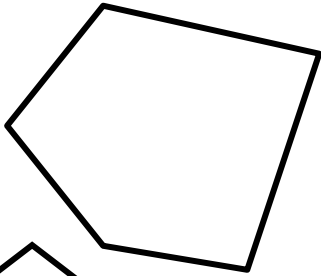
I вариант

Найти сумму длин всех сторон (периметр) каждой геометрической фигуры.

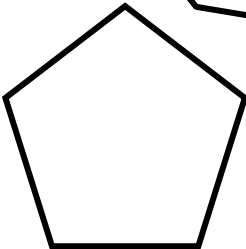
1.



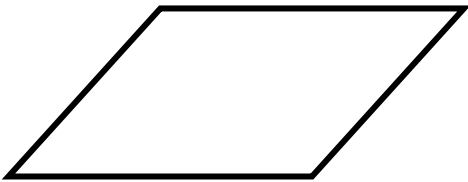
2.



3.




4.



5.



6.



Оценка:

